



evropský
sociální
fond v ČR



EVROPSKÁ UNIE



MINISTERSTVO ŠKOLSTVÍ,
MLÁDEŽE A TĚLOVÝCHOVY



OP Vzdělávání
pro konkurenceschopnost



INVESTICE DO ROZVOJE VZDĚLÁVÁNÍ

DIGITÁLNÍ UČEBNÍ MATERIÁL

| | |
|--|--|
| škola | Střední škola F. D. Roosevelta pro tělesně postižené, Brno, Křižíkova 11 |
| číslo projektu | CZ.1.07/1.5.00/34.1037 |
| číslo učeb. materiálu | VY_32_INOVACE_PDVPAV_NF_1_15 |
| předmět, tematický celek | odborné předměty oboru Kožedělná výroba a Tkalcovské práce |
| ročník | 1. |
| datum vytvoření | 22. 10. 2013 |
| anotace | Cílem pracovního listu je osvojit a upevnit si znalosti o pleteninách - jednotlivé druhy pletenin. |
| metodická poznámka | Žáci si procvičí a upevní obecné údaje o zátažných a osnovních pleteninách. |
| autor | Ing. Ludmila Pavelková |
| licence (není-li vyplněno, je materiál ze zdrojů autora) | Irena Mráčková ODĚVNÍ MATERIÁLY; SEPTIMA Praha 2000 tot-tricot.blogspot.com ; pleteni-vzory.estranky.cz |

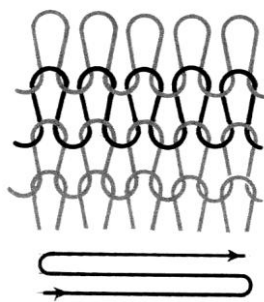
Druhy pletenin

Pleteniny dělíme na dvě skupiny

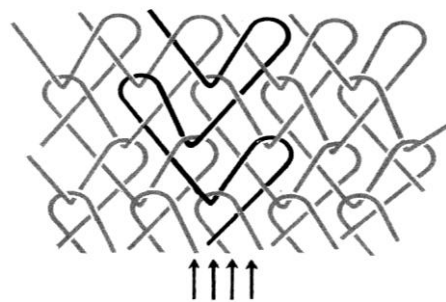
- zátažné pleteniny
- osnovní pleteniny

Pleteniny zátažné - nit se formuje do obloučků a protahuje se očky předchozího řádku.

Pleteniny osnovní - osnovní nit vytváří očka nad sebou ve sloupku a sloupky jsou mezi sebou spojeny.



Zátažná pletenina




Osnovní pletenina

U zátažných pletenin rozeznáváme líc a rub pleteniny. **Lícní strana** je tvořena šikmo proti sobě postavenými stěnami oček - jakoby stromečky. **Rubová strana** je tvořena do sebe zapadajícími obloučky - jakoby vlnovky.



Lícní strana



Rubová strana




Obourubní pletenina

Pokud pleteniny mají rozeznatelný líc a rub, jedná se o pleteniny **jednolícní**.

Je-li vzhled líce a rubu stejný - lícní, pletenina je **oboulícní**.


Má - li pletenina na líci i rubu vzhled rubu je pletenina **obourubní**. Pleteniny se také **vzorují**. Získávají tím plastický vzhled. Použitím barevných efektů se možnost vzorových kombinací ještě zvyšuje.



Copánkový vzor



Ažurový vzor



Reliefní pletenina



Jednolící pletenina



Obourubní pletenina



Oboulící pletenina



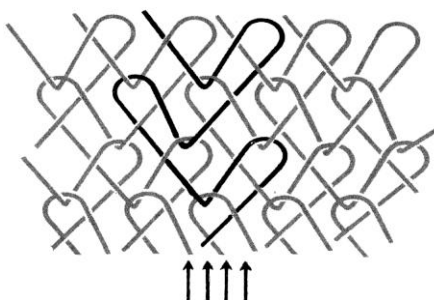
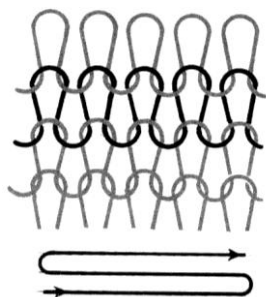
Pracovní list – Druhy pletenin

Úkol č. 1

Napište, jaké znáte druhy pletenin.

-
-

Přiřaď správný název k obrázkům



.....

.....

Úkol č. 2

Vyberte a doplňte podle textu správnou odpověď

..... rozeznáváme líc a rub pleteniny.

.....je tvořena šikmo proti sobě postavenými stěnami oček - jakoby stromečky.

.....je tvořena do sebe zapadajícími obloučky - jakoby vlnovky.

Přiřaď správný název k obrázkům



.....

.....